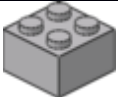








Задание 1. Как называется!

Настоящий робототехник знает как называется каждая деталь в конструкторе. Предлагаем вам соотнести предложенные детали лего (слева) и их названия (справа)

1			А	пластина
2			Б	балка с выступами
3			В	кирпич
4			Г	балка
5			Д	шестеренка
6			Е	ось
7			Ж	шестеренка корончатая

